

a) Ecris

	c	d	u	
Cent trente-deux .....				
Quarante- six.....				
Trois cent trois.....				
Neuf.....				

b) Dessine cent soixante-deux croix, groupe – les en dizaines puis en centaine(s) :

c) combien de dizaines as-tu dessinées ?.....

d) Effectue ces opérations :

	c	d	u
	7	3	2
+	9	7	9

	c	d	u
	7	4	2
-	6	3	8

← Colorie la colonne où la soustraction ne sera pas possible.

Livrets 3, 4, 5 :

- |                           |                           |
|---------------------------|---------------------------|
| $6 \times 4 = \dots\dots$ | $5 \times 5 = \dots\dots$ |
| $4 \times 3 = \dots\dots$ | $7 \times 4 = \dots\dots$ |
| $8 \times 5 = \dots\dots$ | $9 \times 3 = \dots\dots$ |
| $8 \times 4 = \dots\dots$ | $7 \times 3 = \dots\dots$ |
| $6 \times 3 = \dots\dots$ | $9 \times 4 = \dots\dots$ |

e) Résous ce problème :

*Pour payer mes chaussures et mon sac, j'ai donné un billet de 200 euros à la vendeuse et elle m'a rendu 20 euros.*

Laquelle de ces deux dames a-t-elle payé ses chaussures et son sac le moins cher ?

La dame rose a payé : .....

La dame violette a payé : .....

Réponse : La dame ..... a payé son sac et ses chaussures moins cher que la dame.....

*J'ai acheté mon sac 50 euros et mes chaussures 120 euros.*

a) Ecris

Neuf cent .....


Cent neuf.....

Quatre - vingt - onze .....


Neuf cent onze.....

c	d	u

b) Dessine les fleurs de Sonia : Marc a 3 fleurs de plus que Sonia.



**Marc**



**Sonia**

La moitié des fleurs de Sonia sont des tulipes dont une est jaune.

c) Effectue ces opérations :

	c	d	u
	7	3	6
+	4	9	4

	c	d	u
	8	0	7
-	5	4	3

18	7	29	27	8	16
22	1	9	29	17	0
24	6	14	3	10	21
2	4	30	11	20	27
15	5	13	12	19	23

Colorie les réponses du livret 4.

Colorie la colonne où la soustraction ne sera pas possible.

Résous ce problème :

Voici **Lucie**. Elle fête aujourd'hui son anniversaire. **Lucie** a .....ans.

Dessine sa famille au dos : son frère **Simon**, sa sœur **Julie**, son papa et sa maman en sachant que :

- **Lucie** a quatre ans de moins que **Julie**.
- Julie** a ... ans.
- **Simon** a deux ans de moins que **Julie**.
- Simon** a .....ans.



Le jour de la naissance de Lucie, son papa avait 32 ans et sa maman 30 ans. Quel âge ont-ils ?

Aujourd'hui, le papa a ..... ans.      Aujourd'hui, la maman a .....ans.

a) Ecris

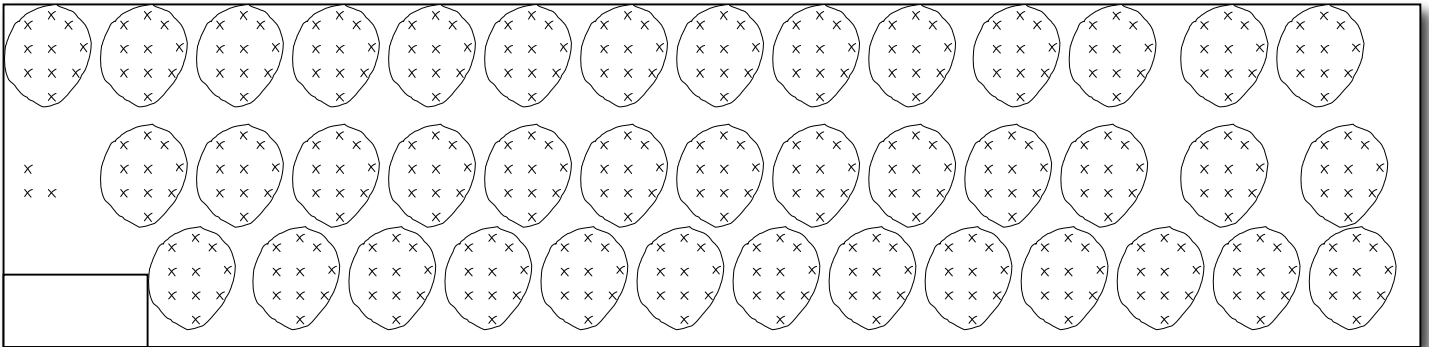
Vingt et un.....

Quinze.....

Six cent quatre.....

c	d	u

b) **Finis de grouper**, puis indique dans la case combien il y a de croix :



c) Combien vois-tu de **dizaines** (groupes de 10 croix) au total?.....

d) Effectue ces opérations

	c	d	u
	6	4	8
+	4	5	7

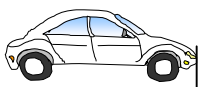
Colorie la colonne où la soustraction ne sera pas possible.

	c	d	u
	7	0	6
-	5	4	6


$\times$	3	4	5
8			
3			
9			
5			
4			
7			

e) Mesure

La voiture freine...trace un trait de freinage de la longueur demandée.



4 centimètres et 6 millimètres (4,6 cm)

.....  .....

Freinage suffisant ?  
Entoure ta réponse.

... oui non



6 centimètres et 4 millimètres (6,4 cm)

.....  .....

... oui non



7 centimètres et 5 millimètres (7,5 cm)

.....  .....

... oui non

a) Ecris

	c	d	u
Trois cent un.....			
Trente .....			
Treize.....			
Cent trois.....			

b) Effectue ces opérations

	c	d	u
	6	8	3
+	3	3	8


Colorie la colonne où la soustraction ne sera pas possible.

	c	d	u
	7	6	8
-	4	8	6

Livrets 2, 3, 4 ou 5 ?

5 x ..... = 15	7 x ..... = 21
8 x ..... = 16	9 x ..... = 36
3 x ..... = 15	6 x ..... = 18
9 x ..... = 27	8 x ..... = 24
8 x ..... = 32	6 x ..... = 30
6 x ..... = 24	4 x ..... = 16

c) Résous ce problème :

La maman de Lucie a préparé  20 crêpes :

Pour cette famille de 4 personnes (colorie les crêpes) :

- chacun a mangé le même nombre de crêpes donc, chacun a mangé .....crêpes.

- Maman a préparé 6 crêpes au jambon, autant de crêpes au fromage. Il y avait autant de crêpes au sucre que de crêpes au chocolat.

Indique dans le tableau combien de crêpes chacun a mangées :

- Maman n'a mangé que des crêpes au fromage.
- Lucie n'a mangé que des crêpes au fromage et au chocolat.
- Papa et Serge ont mangé la même chose.

	sucre	chocolat	jambon	fromage
Maman				
Lucie				
Papa				
Serge				
Total				