


Trois canes ont pondu des œufs :

La première a pondu 10 œufs.

La seconde a pondu 5 œufs de plus que la première. Combien d'œufs a pondu la troisième

cane en sachant qu'au total, elles couvent 33 œufs ?



Réponse : .....

M	C	D	U
8	6	4	8
	9	3	9
...	...	...	...

Effectue cette soustraction si possible

Effectue cette multiplication...


u m	c	d	u
	5	2	7
x			7

Recopie le dessin en symétrie (miroir)

A B C D E F G H I J K L | L K J I H G F E D C B A

Aline et ses amies ramassent des marrons pour faire des bricolages.  
Combien **ont-elles ramassé** de **marrons** si :

- Aline a ramassé 157 marrons.
- Sarah a ramassé 17 marrons de plus qu'Aline.
- Julie a ramassé autant de marrons que Léa.
- Léa a ramassé 26 marrons de moins que Sarah.



Réponse : .....


Effectue cette soustraction si possible

M	C	D	U
5	0	6	4
2	0	3	2
...	...	...	...



Effectue cette multiplication...

u	m	c	d	u
		1	5	8
x				9



Quelle heure est-il si nous sommes ....

Avant midi : .....

Après midi : .....

Rappel :  
1 heure = .....minutes

Combien y a-t-il de minutes dans 1 heure et 25 minutes ? ..... minutes


Combien de minutes y a-t-il dans 4 heures et 2 minutes? .....minutes

Combien y a-t-il de jours au mois de novembre? .....jours

Quel jour sommes-nous si avant-hier c'était samedi? .....

Combien y a-t-il de mois dans une année? .....

Maths



Comment s'appelle cette forme ?

Réponse : .....

Combien mesure le côté ?

Réponse : .....

Combien mesure le tour ? (périmètre)

Réponse : .....

Combien de tours peut-on faire avec un fil de 84 cm ?

Réponse : .....

M	C	D	U
1	2	8	7
	8	5	6
...	...	...	...

Effectue cette soustraction si possible



Effectue cette multiplication...

u	m	c	d	u
		4	0	8
				6
x				

Ecris avec des chiffres les nombres suivants :

treize mille quatre-vingt-six.....  

--	--	--

--	--	--

sept cent quatre mille quarante-trois.....  

--	--	--


--	--	--

cent vingt et un mille deux:.....  

--	--	--

--	--	--

Classe ces nombres du plus petit au plus grand (= dans l'ordre croissant):




Entoure en rouge les nombres impairs.



Un mouton fournit 5 kilos de laine par an.

Combien de kilos de laine va-t-on récolter si on a un troupeau de 46 moutons ?

Ton calcul : .....



Réponse : .....

Effectue cette multiplication...

M	C	D	U
6	3	4	9
3	1	8	3
...	...	...	...

Effectue cette soustraction si possible



u	m	c	d	u
		3	4	5
				7
x				

Complète ces séries :

246 357

862 761

- Colorie l'autre côté du quadrillage en symétrie (= en miroir) :

A B C D E F G H I J K L L K J I H G F E D C B A