


Une renarde a environ 4 petits chaque année.

Une femelle peut avoir des petits lorsqu'elle a un an.

Elle vit ,dans la nature, un peu plus de 3 ans.


Combien de petits peut avoir une renarde durant toute sa vie ?



Réponse :


M	C	D	U
2	7	3	6
	8	0	4
...

Effectue cette soustraction si possible



Effectue cette multiplication...

u m	c	d	u
	6	2	7
x			9



Quelle heure est-il si nous sommes

Avant midi :

Après midi :

Rappel :
1 heure =minutes

Combien y a-t-il de minutes dans 1 heure 8 minutes ?..... minutes

Combien de minutes y a-t-il dans 3 heures et 54 minutes?minutes

Combien y a-t-il de jours au mois de juillet ?jours

Quel jour sommes-nous si hier c'était mardi?.....

Les daims s'accouplent durant le mois d'octobre. La femelle accouche 8 mois plus tard. Durant quel mois accouche-t-elle?.....

Tu as 12 francs pour acheter un maximum de fruits pour faire une salade de fruits qui doit contenir au minimum 5 fruits différents. Chaque fruit peut être acheté plusieurs fois. Dessine dans ce saladier en verre ce que tu vas acheter et justifie ton achat avec un calcul.

Calcul :


kiwi	mangue	orange	banane	
			Prix à la pièce	
pomme	poire	raisin		

M	C	D	U
4	6	5	1
5	3	9	0
...

Effectue cette soustraction si possible

Effectue cette multiplication...

u	m	c	d	u
		2	8	0
				4
x				



Ecris avec des chiffres les nombres suivants :

soixante-six **mille** soixante-six:


--	--	--	--	--	--	--	--

trois cent un **mille** cent trente:

--	--	--	--	--	--	--	--

seize **mille** neuf cent nonante-neuf:

--	--	--	--	--	--	--	--



Classe dans l'ordre croissant puis entoure en vert les nombres

pairs.

Angela veut aller acheter les cadeaux pour ses parents. Elle casse sa tirelire :

1 franc = 100 centimes

Quelle somme a-t-elle ?

- 20 pièces de 5 centimes
- 20 pièces de 10 centimes
- 5 pièces de 20 centimes
- 4 pièces de 50 centimes
- 6 pièces d'1 franc
- 3 pièces de 2 francs
- 7 pièces de 5 francs
- 4 billets de 10 francs

francs			centimes	
c	d	u		
...
...
...
...
...
...
...
...
...
...




Elle afrancs.

Effectue cette multiplication...


M	C	D	U
6	5	7	3
-	8	0	6
...

u	m	c	d	u
		5	7	9
x				3



Effectue cette soustraction si possible

Quelle heure est-il si nous sommes



Avant midi :

Après midi :

Complète: Nous sommes le Ce mois a jours. C'est leème mois de l'année.