

Je veux faire des spaghettis pour ma famille. Nous sommes 6 personnes et chaque personne va manger 80 grammes de pâtes.

Quel poids de spaghettis dois-je cuire ?



Ton calcul :

Réponse :

Effectue cette multiplication...

M	C	D	U
	9	7	6
-	7	2	3
...

Effectue cette soustraction si possible



u	m	c	d	u
		9	0	6
x				7

Ecris avec des chiffres les nombres suivants :

quatre cent mille trois:

--	--	--	--	--	--

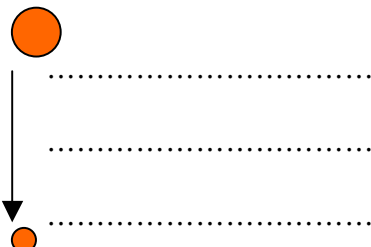
huitante-huit mille cent un:

--	--	--	--	--	--

huit cent six mille trente-six:

--	--	--	--	--	--

Classe ces nombres dans l'ordre : décroissant



Entoure en rouge les nombres impairs.

Monsieur Meier part de Lausanne à 8h pour se rendre à Bordeaux qui est à 760 kilomètres. Après 12h40, il s'arrête pour manger à Clermont-Ferrand. Son GPS lui indique qu'il reste encore 390 kilomètres. Quelle est la distance entre Lausanne et Clermont-Ferrand ?



Ton calcul :

Ta réponse :

.....

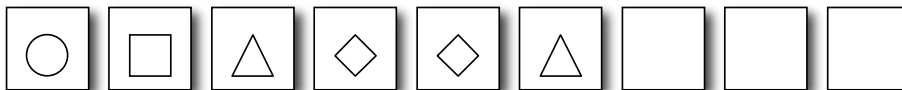
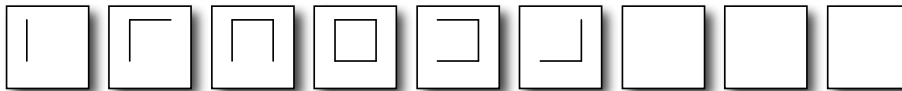
M	C	D	U
2	5	7	9
3	4	8	3
...

Effectue cette soustraction si possible

Effectue cette multiplication...

u m	c	d	u
	8	7	9
x			2

Découvre les suites logiques et complète les trois derniers éléments:



Récris ces nombres en mettant les séparations au bon endroit !


Exemple : 37129048 → 37'129'048

37129 →

3712948 →

371290 →

Classe ces 3 nombres dans l'ordre croissant




Mon bolide vaut :
Trente - sept mille cent vingt-neuf francs. Colorie son prix en chiffres

Angela, 12 ans, va au cinéma avec son papa, sa maman, sa tante et sa cousine qui a 8 ans.

Avant de voir le film, Angela et sa cousine s'achètent chacune du pop-corn.



Entrée :
 enfant : 13.-
 Adulte : 16.-
 AVS : 14.-



Combien a coûté cette sortie au total ?

Ton calcul :


Réponse :

Effectue cette multiplication...

M	C	D	U
	7	3	8
-	3	9	8
...

Effectue cette soustraction si possible.

	u	m	c	d	u
			6	4	7
x					5



Quelle heure est-il si nous sommes

Avant midi :

Après midi :

Combien y a-t-il de minutes dans 1 heures ?..... minutes

Combien de minutes y a-t-il dans 4 heures et 02 minutes?minutes


Combien y a-t-il d'heures dans un jour?heures

Quel jour sommes-nous si avant-hier, c'était dimanche?.....

Combien y a-t-il de mois dans une année?..... mois

Jules décide de s'entraîner pour une course à vélo cette semaine.

Lundi, il roule 5 kilomètres. Chaque jour de la semaine, il effectue 3 kilomètres de plus que le jour d'avant.



lundi	
-------	--

↓
.....kilomètres

Combien de kilomètres parcourra-t-il le vendredi ?

Réponse :

M	C	D	U
	9	3	7
1	2	3	4
...

Effectue cette soustraction si possible

Effectue cette multiplication...

u	m	c	d	u
		4	6	3
x				8

Ecris avec des chiffres les nombres suivants :

trois cent neuf mille vingt-cinq :

			●			
--	--	--	---	--	--	--

quatre cent huit mille cent quinze:

--	--	--	--	--

nonante mille quatre:

--	--	--	--	--	--	--

Classe ces nombres du plus grand au plus petit :

.....

.....

.....

Entoure en violet les nombres pairs.