

1. Complète uniquement les cases colorées :



pair

Entoure en **bleu** les nombres **pairs**

Entoure en **rouge** les nombres **impairs**

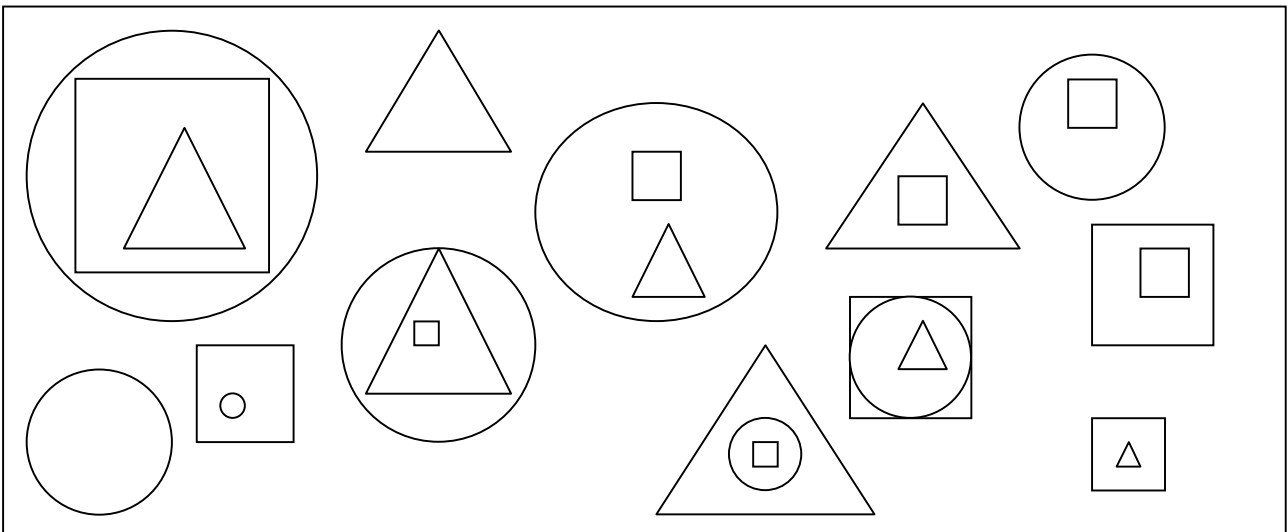
impair

2. Groupe par 10 et code ton résultat. Colorie, dans la grille, la case qui représente le nombre de roses trouvées.



Il y a **plus** de roses **roses** que de roses **jaunes** ? oui non  
 Il y a **plus** de roses **jaunes** que de roses **roses** ? oui non

3. Colorie - en **rouge** chaque **rond** qui est **dans un triangle**.  
 - en **bleu** chaque **triangle** qui est **dans un rond**.





1. En utilisant l'addition, trouve le bon résultat en choisissant les bons nombres.  
Tu n'es pas obligé de tous les utiliser, mais tu ne peux les utiliser qu'une seule fois.

$$3 - 6 - 8 - 1 - 4 - 3 - 7$$

$$\dots\dots\dots 3 + 7 + 8 + 1 \dots\dots\dots = 19$$

$$4 - 8 - 3 - 2 - 7 - 6$$

$$\dots\dots\dots = 23$$

$$4 - 5 - 7 - 5 - 3$$

$$\dots\dots\dots = 17$$

$$3 - 4 - 3 - 1 - 8 - 9 - 6$$

$$\dots\dots\dots = 26$$

$$8 - 4 - 5 - 9 - 3 - 1 - 6$$

$$\dots\dots\dots = 20$$

$$4 - 6 - 8 - 7 - 1$$

$$\dots\dots\dots = 18$$

$$6 - 7 - 8 - 4 - 3 - 3$$


$$\dots\dots\dots = 28$$

$$6 - 8 - 1 - 4 - 3 - 7 - 5$$

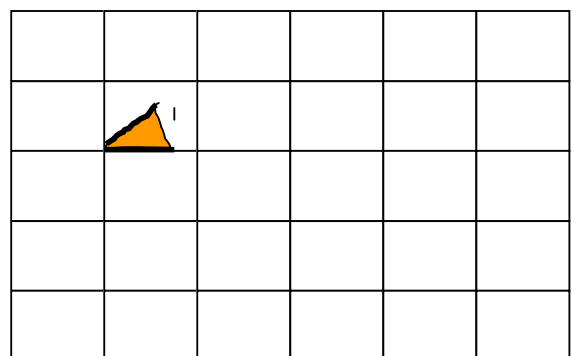
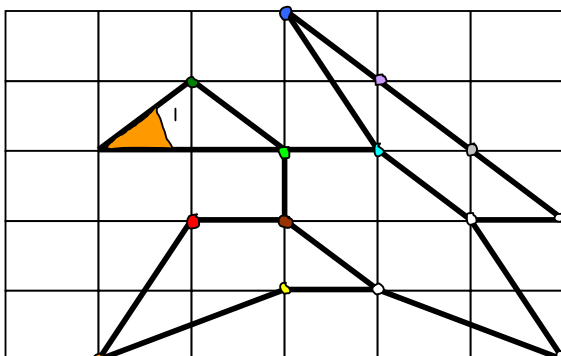
$$\dots\dots\dots = 29$$

2. Trouve à qui appartient chaque repas:

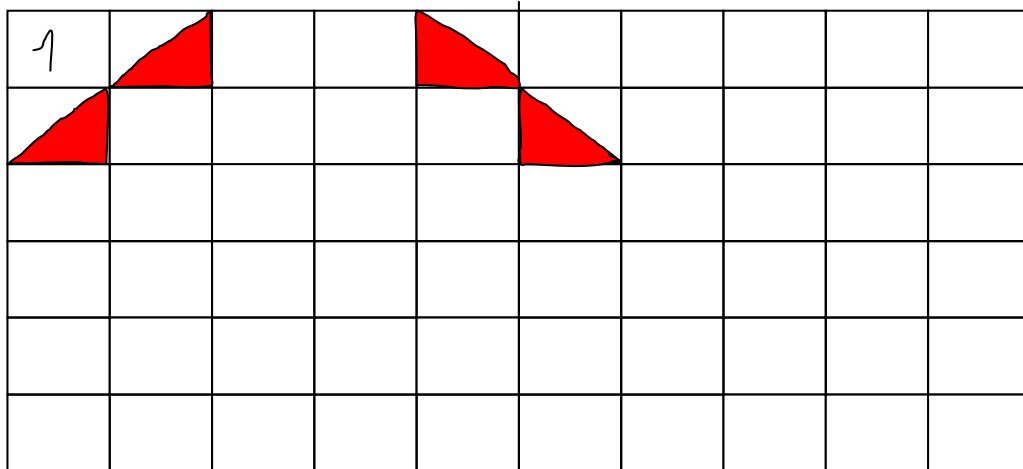
- **Louis** n'a pas de viande
- **Marie** n'a pas de fruits
- **Paul** n'a ni fruit ni viande
- **Aline** n'a pas de riz



3. Place les points, puis relie-les pour recopier le dessin.



1 a). Complète les cases :



- b) effectue ces additions et soustractions et colorie dans le tableau la case qui correspond à la réponse (utilise la même couleur que le cadre).

$49 - 3 = \dots\dots\dots$

$30 - 6 = \dots\dots\dots$

$29 - 7 = \dots\dots\dots$

$18 - 4 = \dots\dots\dots$

$30 + 2 = \dots\dots\dots$

$44 + 7 = \dots\dots\dots$

$31 + 5 = \dots\dots\dots$

$10 + 2 = \dots\dots\dots$

$40 - 6 = \dots\dots\dots$

$46 - 2 = \dots\dots\dots$

$59 - 4 = \dots\dots\dots$

$11 - 8 = \dots\dots\dots$

$11 + 10 = \dots\dots\dots$

$28 + 3 = \dots\dots\dots$

$49 + 3 = \dots\dots\dots$

$12 + 3 = \dots\dots\dots$

$29 - 3 = \dots\dots\dots$

$46 - 5 = \dots\dots\dots$

$54 - 1 = \dots\dots\dots$

$4 + 9 = \dots\dots\dots$

$31 + 4 = \dots\dots\dots$

$52 + 4 = \dots\dots\dots$

$37 + 6 = \dots\dots\dots$

$50 + 4 = \dots\dots\dots$

$28 + 5 = \dots\dots\dots$

$8 - 4 = \dots\dots\dots$

2. Problème : Simon a ramassé : (dessine)

- 3 sacs de feuilles mortes sous le pommier
- 2 sacs de feuilles mortes sous le poirier
- 1 panier de châtaignes sous le châtaignier
- 5 sacs de feuilles mortes sous le châtaignier



Combien de sacs de feuilles mortes a-t-il ramassés ? .....sacs

